

I PD_COMP. N. 20_TE01

CPIA CATANIA 2 - VIALE LIBERTA' 151, 95014 GIARRE

*Campo obbligatorio

1. COGNOME E NOME (in caso di omonimia aggiungere la data di nascita) *

2. SEDE *

Contrassegna solo un ovale.

- Aci S. Antonio
- Acireale
- Adrano
- Biancavilla
- Bronte
- Calatabiano
- Giarre
- Linguaglossa
- Mascalucia
- Misterbianco Don Milani
- Misterbianco Pitagora
- Paternò
- Randazzo
- S. Giovanni La Punta
- S. Maria di Licodia
- S. Pietro Clarenza
- Santa Venerina
- Viagrande

COMPETENZA N. 20 - Ore 10

Progettare e realizzare semplici prodotti anche di tipo digitale utilizzando risorse e

materiali, informative, organizzative e oggetti, strumenti e macchine di uso comune

3. C20: 100 cm equivalgono a: *

Contrassegna solo un ovale.

- 1 m
- 1 km
- 1 mm
- non so rispondere

4. C20: Qual' è l'unità di misura della superficie (area) nel sistema internazionale? *

Contrassegna solo un ovale.

- metro
- metro quadrato
- chilogrammo
- non so rispondere

5. C20: Quale strumento utilizzi per tracciare la circonferenza? *

Contrassegna solo un ovale.

- la riga metrica
- Il goniometro
- Il compasso
- non so rispondere

6. C20: Quale delle figure sottostanti rappresenta un quadrato? *


Contrassegna solo un ovale.




A



B



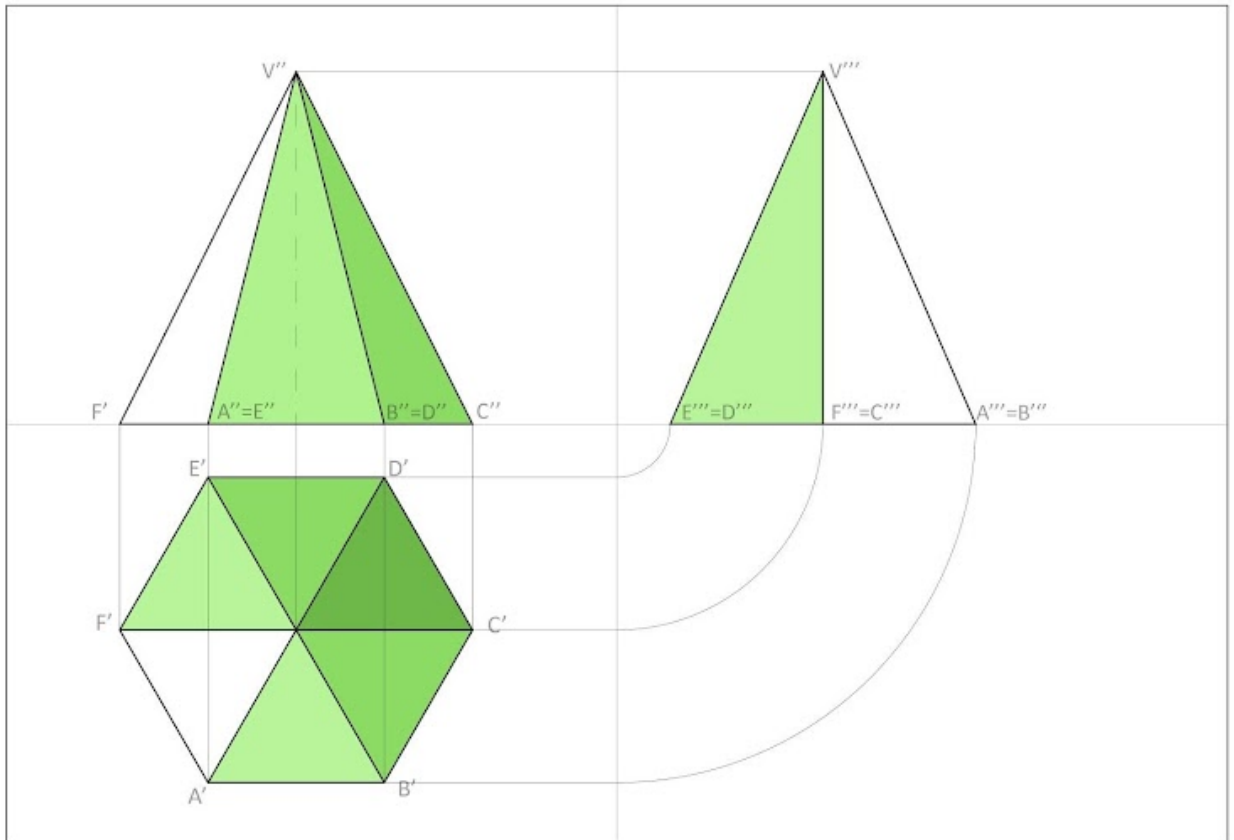
C



D

non so rispondere

7. C20: Quale metodo di rappresentazione grafica è riportato nella figura sottostante ? *



Contrassegna solo un ovale.

- Assonometria
- Proiezione ortogonale
- Prospettiva
- non so rispondere

Questi contenuti non sono creati né avallati da Google.

Google Moduli

